

高雄區高級中學 100 學年度第一學期
大學入學第一次學科能力測驗聯合模擬考

社會考科

試題編號：CU-3003
考試日期：100.10.25

—作答注意事項—

考試時間：100 分鐘

題型題數：

- 選擇題共 72 題

作答方式：

- 選擇題用 2B 鉛筆在「答案卡」上作答，修正時應以橡皮擦拭，切勿使用修正液。

祝考試順利

單選題 (佔 144 分)

說明：第 1 至第 72 題，每題選出一個最適當的選項，標示在答案卡之「選擇題答案區」。
每題答對得 2 分，答錯不倒扣。

1. (甲)曾勝文自認長的很帥，走在路上，總認為旁人都在注意著他，於是他總是無時無刻的注意著髮型與穿著，並且無時無刻都露出迷人的笑容；(乙)舞蹈班學生婁盈蓁一直很崇拜蔡依琳，認為蔡依琳是絕無僅有的舞者、無人能及，因此以蔡依琳為學舞的最佳榜樣；(丙)程武男是游泳隊隊員，見八掌溪旁告示：「水深危險，嚴禁游泳」，但他仍不顧危險而下水游泳。請問以上(甲)、(乙)、(丙)三種心理社會現象的組合分別是：
(A)身體意象；參考團體；假想觀眾 (B)鏡中自我；個人傳奇；自我中心
(C)概括化他人；個人傳奇；重要自我 (D)假想觀眾；重要他人；個人傳奇
2. 媽媽帶于瑄剪頭髮，于瑄的頭髮被剪成馬桶蓋，一想到明天到學校一定會受到同學們的嘲笑，于瑄便傷心不已，便跟媽媽說不想去上學了。若以顧里「鏡中自我」的運作階段分析，于瑄目前是處於何種自我概念的運作階段？
(A)客我 (B)呈現 (C)判斷 (D)主觀的解釋
3. 許多國家的保守政黨一直將異性戀視為人類感情的唯一正常情慾模式，反對同性戀與同性戀婚姻合法化、甚至反對任何非異性戀型態之行爲或觀念，而予以否定及貶抑，此種意識形態稱之為何？
(A)性別主流化 (B)同性戀恐懼症 (C)異性戀霸權 (D)性傾向偏差
4. 心理學家安斯渥研究人類的依附行爲有數種，但所有的親密關係皆始於嬰兒與母親的互動。請問：小毅就讀明星高中，認為自己雖然很努力地和同學玩在一起，但因為不擅於與人相處，不是說話不得體而被排斥，就是開玩笑過頭而起衝突，造成別人很大的困擾。這種「既期待又怕受傷害」的互動模式，最可能是下列哪一種依附類型？
(A)矛盾型依附 (B)逃避型依附 (C)安全型依附 (D)衝突型依附
5. 各種文化往往會透過各種象徵性的「符號」來運作，人類便可指稱自身以外的其他事物，產生意義以形成各種文化活動。下列何者屬於文化中的「符號」？
(A)上下課的鐘聲 (B)高中畢業典禮 (C)端午節划龍舟 (D)天主教的望彌撒
6. 過去我國民法第 1089 條關於親權之規定，採「父權優先」之原則，即「當父母對於未成年子女權利之行使意思不一致時，由父行使之」。司法院大法官會議於民國 83 年 9 月 23 日對該條文進行解釋，認定該條文與憲法第 7 條人民無分男女在法律上一律平等，及憲法增修條文第 9 條第 5 項消除性別歧視之意旨不符，應予檢討修正，並應自本解釋公布之日起，至遲於屆滿 2 年時，失其效力。請問：民法第 1089 條因違反憲法平等權的精神而失其效力，這是何種法律適用原則的展現？
(A)法律優越原則 (B)法律保留原則 (C)後法優於前法 (D)程序法優於實體法

7. 教育部曾訂定《遊藝場業輔導管理規則》，禁止未滿 18 歲的青少年進入電玩遊藝場所，違反者將撤銷業者的營業許可，後來大法官會議第 54 號解釋文認定教育部曾訂定的《遊藝場業輔導管理規則》無效，試問下列何者解釋最爲正確？
- (A)《憲法》地位優於行政法，青少年的人權在《憲法》中受到明確保障
(B)違反法律優位原則，不能因保護青少年與端正社會風俗而限制青少年自由
(C)違反行政法之平等原則，未成年人與成年人在法律地位上一律平等
(D)違反法律保留原則，無任何法律授權教育部，得以侵害業者的工作權與財產權
8. 昌哥向南投縣政府申請核准興建大型觀光旅館建築執照，但南投縣政府當旅館完成後，才發現此處爲水源保護地，最後南投縣政府乃依法將建築執照撤銷，拆除建築物，並補償昌哥的損失。請問：這是基於下列哪一項原則？
- (A)比例原則
(B)誠信原則
(C)信賴保護原則
(D)平等原則
9. 東部某國立大學因校舍興建趕工不及，使得 100 學年度開學後仍有多數學生無宿舍可住，迫使很多學生必須在校外另覓租屋的住宿處所，歷史系女同學淑惠同學很快就找到租屋的住宿地方，但她的中文系男友文強租屋總是四處碰壁，因爲許多房東總是在出租廣告上載明「限女生」。據此請問：根據《民法》的規定，我們可不可以根據性別平等的主張，要求房東不得限制承租人的性別？
- (A)可以，因爲《民法》不能牴觸《憲法》的平等原則
(B)可以，因爲這違反了「契約公平原則」
(C)不可以，根據「契約自由原則」，出租人可以自由決定承租人
(D)不可以，因爲法律必須保護房東的「債權」
10. 據報載南投縣某鄉的兩戶人家，因遭人在食物下毒造成四人中毒身亡。如果證明小南知道這兩戶人家的食物已被別人放置致命毒藥，也知道若這兩戶人家的人吃下這食物勢必喪命，但小南未積極阻止這兩戶人家吃下食物，而且希望預期的結果發生。請問：下列有關小南犯意的判斷，何者敘述正確？
- (A)小南的犯意非屬故意，因爲他並不是放毒藥的人
(B)小南的犯意非屬故意，因爲他未鼓吹這兩戶四口人吃下食物
(C)小南的犯意屬過失，因爲他的情況是應注意、能注意而未注意
(D)小南的犯意屬故意，因爲他明知犯罪行爲結果發生而不予積極阻止、放任預期結果發生
11. 法院依當事人之聲請，於起訴前就爭議之民事事件，勸籲杜息止爭，由當事人合意以避免訴訟之程序，稱之爲何？
- (A)調解
(B)和解
(C)談判
(D)仲裁

12. 下列人員中，何者非屬刑事訴訟之當事人？
(A)檢察官 (B)法官 (C)自訴人 (D)被告
13. 所謂國家，若依政治學者 J. Garner 認為「國家乃一群人所組織的社會，永久占據某特定的區域，不受外力的拘束，保持有組織的政府，以獲得居民的服從。」請問：有關領土之敘述，下列何者正確？
(A)一國國民所居住的空間即該國領土
(B)領陸、領海及經濟海域之上為領空
(C)國籍船舶在公海上屬該國浮動領土
(D)駐外使館在他國境內，非我國領土
14. 自從 17 世紀以來，在西方民主政治的發展過程中，對民主政治的意義、理想方法或實踐等方面，隨社會和經濟發展的歷史演進過程之差異，形成不同的民主理論。請依民主理論演進的時程，排列其先後順序：(甲)審議民主理論 (乙)經驗民主理論 (丙)古典民主理論 (丁)多元民主理論。
(A)甲乙丙丁 (B)丙乙丁甲 (C)乙丁甲丙 (D)丙丁甲乙
15. 依據我國《憲法》及增修條文的相關規定，下列何者是屬於立法院的職權？
(A)議決總統、副總統的彈劾 (B)追認大赦特赦
(C)追認總統發布之緊急命令 (D)與美國簽訂 58.5 億美元的軍購案
16. 美國是典型的總統制國家，如果美國國會通過了強迫美國政府軍售臺灣 F-16 C/D 型飛機的議案，美國總統歐巴馬對國會通過的這項議案有權拒絕執行，並退回議會重新審理，這是美國總統的何項權力？
(A)復議權 (B)否決權
(C)拒絕執行權 (D)咨文權
17. 依《公職人員選舉罷免法》之規定：凡具有中華民國國籍，年滿 20 歲，在選舉區內繼續居住 4 個月以上之下述人民，下列何者（何人）不具備投票權？
(A)被褫奪公權的張小三 (B)患有精神疾病的李小四
(C)受監護宣告的王大五 (D)未盡國民納稅義務的陳大六
18. 國際政治的體系結構基本上是一個歷史演變的動態概念。請問十七世紀以來，國際政治關係的結構經過哪些變化？
(A)一超多強結構→兩極（二元）對立的冷戰結構→多元競爭結構
(B)一超多強結構→多元競爭結構→兩極（二元）對立的冷戰結構
(C)兩極（二元）對立的冷戰結構→一超多強結構→多元競爭結構
(D)多元競爭結構→兩極（二元）對立的冷戰結構→一超多強結構

19. 對政府的監督有多種方式，下列有關所謂對政府的「行政監督」的敘述，何者正確？
- (A) TVBS 與三立或東森等大眾傳媒能發揮第四權的功能，針對政策或施政之缺失提出批評
 - (B) 在發現行政機關之行政人員有貪污或其他違法之情事時，透過司法部門進行偵查、起訴
 - (C) 透過立法院對行政機關進行預算審查，或將行政資訊予以公開
 - (D) 組織內部訂有一套紀律規範或行為守則，使內部人員能知所遵循

20-22 題為題組

◎日本國會眾議員選舉採取混合投票制之並立制，眾議員法定名額為 480 席，其中地方選區（區域選區）為單一選區相對多數制，共要選出 300 席；不分區為比例代表制，共要選出 180 席，試問：

20. 自由民主黨在地方選區中當選 160 席，在不分區中政黨得票比例為 40%，請問：自由民主黨在此次眾議員選舉中，共當選幾席？
- (A) 192 席 (B) 352 席 (C) 232 席 (D) 224 席
21. 如果日本國會眾議員選舉採用的是「混合投票制之聯立制」，那麼，自由民主黨在此次眾議員選舉中，總共應該當選幾席？
- (A) 192 席 (B) 352 席 (C) 232 席 (D) 224 席
22. 由上述可知，選舉制度實影響各國政黨所獲得之席位的多寡，甚至影響各國之政黨制度，符應了法國政治學者杜瓦傑（Maurice Duverger）所謂的「選舉制度將深深影響政黨制度」之論述，其論述亦形成所謂的著名之「杜瓦傑定律」，下列關於杜瓦傑的分析之敘述何者錯誤？
- (A) 相對多數制較易形成兩黨制 (B) 比例代表制易形成穩定多黨制
- (C) 兩輪投票制將造成不穩定的多黨制 (D) 單一選區兩票制會趨向多黨制

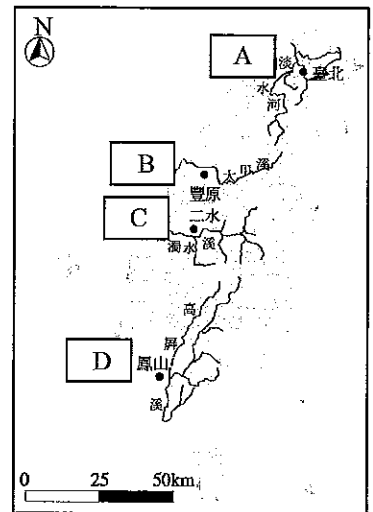
23-24 題為題組

◎臺東某國中歷史教師因三位學生屢次未寫作業以及未帶課本，而以「愛的小手」打了該三位學生手掌心。其實為落實無體罰的校園環境，我國已於民國 95 年 12 月 12 日通過教育基準法第 8 條、第 15 條的修正條文，正式走入禁止校園體罰的國家。該第 8 條修正後的內容為「學生之學習權，受教育權、身體自主權及人格發展權，國家應予保障，並使學生不受任何體罰，造成身心障礙」。請問：

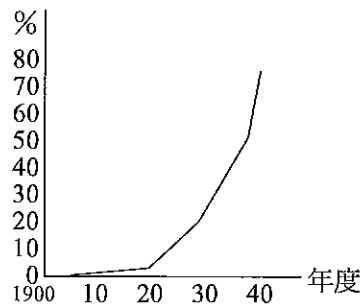
23. 該國中教師如果因為如此體罰學生，造成學生手部嚴重挫傷與瘀傷，此教師的管教行為顯然已與教育目的不符，這是違法哪一項原則？
- (A) 法律保留原則 (B) 比例原則
- (C) 誠信原則 (D) 信賴保護原則

24. 該法修正後的第 8 條條文所謂的「受教育權」、「人格發展權」是屬於：(甲)消極人權；(乙)積極人權；(丙)古典人權；(丁)第四代人權；(戊)社會權。
(A)甲丙 (B)甲丁 (C)乙戊 (D)乙丙戊
25. 「外商紛紛來臺設立洋行，隨著貿易需求，一批買辦也應運而生，他們四方奔走，替外商推銷洋貨，也到處收購土貨，成為臺灣商品內外銷最重要的媒介，是臺灣走向國際貿易最早的一批貿易商」。請問上文所述應在何事件之後？
(A)十七世紀荷蘭占據臺灣，使臺灣成為東亞貿易中心
(B)清朝時期，在解除「海禁」的「鎖國政策」後，洋商才得以順利進入臺灣
(C) 1860 年代臺灣開港通商後臺灣社會經濟的轉變
(D)此現象是牡丹社事件後，清朝治臺轉趨積極所致

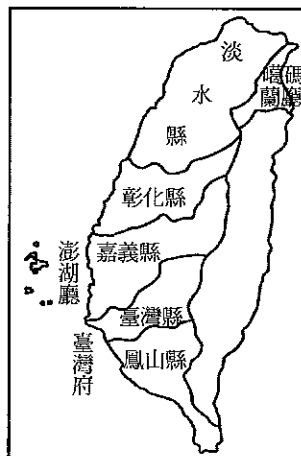
26. 右圖是臺灣開墾時期的水圳工程，請問以下何者陳述為是？
(A)圖中「C」是曹公圳
(B)水圳工程的開墾是影響到「茶」的產量重要因素之一
(C)水圳工程大多是靠政府力量
(D)與平埔族「割地換水」，而成的水圳應該是「B」



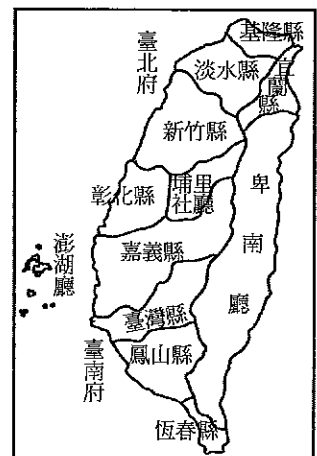
27. 右圖是臺灣某一政策施行後的曲線圖。請問這應該是統計何種政策實施後所得到的結果？又 1930 年代的改變和下列哪一項政策有關？
(A)識字率；義務教育
(B)日語教育；推動皇民化運動
(C)基礎教育；推動內臺共學
(D)臺灣人從軍人口；志願軍政策



28. 圖(一)及圖(二)分別是臺灣在兩個不同時期的行政區域示意圖。請問：臺灣的行政區劃由圖(一)演變至圖(二)，顯示出臺灣歷史的哪一種發展？
(A)此時漢人移墾的禁令已告廢除，於是有「廢除渡臺禁令」的頒布
(B)這是建省後統治政策轉趨積極，於是有更細的行政區域劃分
(C)日據時期為對番地控制的加強，因此實施「五年理番政策」，於是設立「卑南廳」
(D)日本殖民統治的基礎日趨穩固，於是經過「臺灣舊慣調查」後，劃分出的行政區域



圖(一)



圖(二)

29. 「阿哲是一位在台北工作的熱血青年，9月7日是他老爸的生日。爲了向住在台南的老爸祝壽，於是他一大早就搭火車直奔南下以便可以當天往返。回家後阿哲與老爸閒話家常……」，請針對以下他們的對話，選出正確選項？
- (A)阿哲說返家途中，看到「日軍進入臺北城」臺北城陷入一片慌亂，令他擔憂
 - (B)回家之後與老爸談論發生在家鄉的「余清芳事件」，因老爸是信徒，讓他擔心父親會受牽連
 - (C)阿哲向老爸說明想要半工半讀，以便日後可以念臺北帝國大學的「法律系」，因爲這是現在的熱門科系，將來就業會很容易
 - (D)他說日軍進入臺北城，後藤新平請他當幕僚，一同研究臺灣風俗以便了解臺灣（日後提出「有方針主義」），所以明天須趕回臺北

30. 以下是日據時代某一政策實施後，針對臺籍與日籍參與比例的比較表。

年代	1904 年	1909 年	1914 年	1920 年	1925 年	1930 年	1935 年	1940 年	1944 年
臺籍	3.8%	5.5%	9.1%	25.1%	27.2%	33.1%	41.5%	57.6%	71.3%
日籍	67.7%	90.9%	94.1%	98.0%	98.3%	98.8%	99.3%	99.6%	99.6%

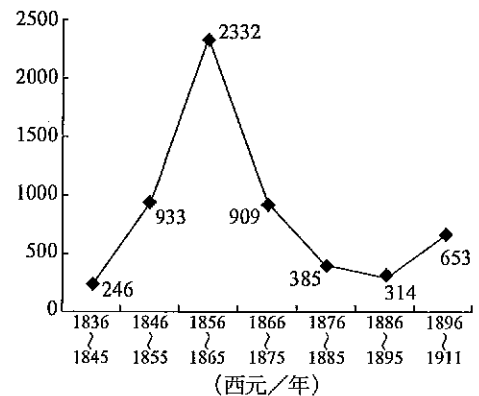
（資料來源：《臺灣省 51 年來統計提要》第 1241 頁）

請根據此表選出正確的選項？

- (A)某一個政策，應該是指「職業教育」的實施，因爲殖民社會中殖民母國注重殖民地的資源掠奪，所以重視「職業教育」
 - (B)此表應該是義務教育的實施，使無論是臺籍或日籍學生參與率皆大增
 - (C)此表應該是日本政府徵調臺灣人及在臺日本人參加南洋作戰的人數比
 - (D)某一個階段，應該是指「初等教育」階段學生就學率比較表
31. 某一美國國會法案：「任何企圖以非和平方式來決定臺灣前途之舉，包括使用經濟抵制及禁運手段在內，將被視爲對西太平洋地區和平及安定的威脅，而爲美國所嚴重關切……美國將使臺灣能夠獲得數量足以維持自衛能力的防衛物資及技術服務。」
- 依據上述資料請選出正確選項？
- (A)這法案的背景是臺灣退出聯合國
 - (B)「美國在臺協會」的設立與此有關
 - (C)這是取代「中美關係白皮書」以維持臺美關係
 - (D)簽署此法案的美國總統是羅斯福
32. 有句話說：「君主近臣，代起執政，品位既高，退居閑曹。」這是對下列哪一官制演變的描述？
- (A)三公制→三省制
 - (B)三省制→一省制
 - (C)一省制→內閣制
 - (D)內閣制→軍機處

33. 中國歷史上有一種賦稅制度，農民繳納的賦稅與他的田產沒有必然關連，而是一定的數額。起初，農民可以藉由分到田地而繳稅，但是後來已分不到田，或分的田不均，但是仍然要繳同樣的稅，這樣一來，國家的制度就很難再持續下去。請問：這是甚麼朝代的哪一種制度？爲了改變這一種情況又採取何種措施？
- (A)魏晉南北朝「田租」；後因戰爭人口調查不易改爲「戶調」制
(B)唐朝「租庸調」；後改爲「兩稅法」
(C)宋朝「兩稅法」；後王安石變法時改爲「方田均稅法」
(D)明朝「兩稅法」；後因美洲輸入白銀改爲「一條鞭」
34. 歷來中國與外族衝突後或爲緩和彼此關係，曾用各種方式換取和平，如稱臣、歲幣、互市、和親…請問以下哪一個選項「宋朝」未曾施行過？
- (A)稱臣
(B)歲幣
(C)互市
(D)和親
35. 長江三角洲自中唐以後農業發達，一向是糧食輸出區；但明末以來，卻需仰賴外地輸入糧食。於是由宋代的「蘇常熟，天下足」轉變爲明代的「湖廣熟，天下足」，這種轉變的現象與下列何者有關？
- (A)原先的地區改種經濟作物，造成糧作不足
(B)戰亂頻仍，農業生產遭到破壞，所以需要改變種植的地區
(C)水利失修，造成糧食生產減少
(D)新作物傳入，飲食習慣漸改變

36. 根據右圖請選出正確的選項：
- (A)這應該是清朝鴉片輸入的數量變化圖
(B)這是領清時期臺灣械鬥的統計圖
(C)這是晚清時期大陸內部民亂次數統計圖
(D)這是臺灣開港通商後茶葉輸出的變化曲線圖



37. 「基督新教」與「資本主義」之間具有密切的關連，是韋伯當時學界的「共識」，對此，韋伯並沒有置疑，在 1920 年版的《新教倫理與資本主義精神》一書的結尾處明白的表示，他的論述所要證明的乃是：「現代資本主義的精神，並且不只是這精神、而且也是現代文化的構成性組成成分之一的『以職業觀念爲基礎的理性的生活經營』，乃是由基督教的禁欲的精神中孕育出來的。」……請問韋伯的理論比較接近以下哪一個教派的理論？
- (A)路德教派
(B)喀爾文教派
(C)羅耀拉的耶穌會
(D)英國國教派

38. 二十世紀初，美國史學家根據一塊大理石上的銘文，整理出一份「雅典貢金表」，由各城邦在表上的「缺」或「再獻」等紀錄與貢金數目的變化，可以看出他們對雅典的忠貞程度。下列相關敘述何者有「誤」？
- (A) 這塊大理石的出現應不會早於「波希戰爭」結束後
 - (B) 希臘某些城邦拒絕繳交貢金予雅典而引發了「伯羅奔尼撒戰爭」
 - (C) 反對繳交貢金的城邦組成了「提洛聯盟」
 - (D) 雅典向各城邦徵收貢金之行爲導因於波希戰爭的勝利

39. 「當哥倫布偉大發現的消息傳到威尼斯的里亞爾托（中世紀的華爾街）時，出現了極度的恐慌，證券、債券跌了百分之四十到五十。」請問威尼斯的商人爲何如此驚恐？
- (A) 因爲威尼斯商人害怕新大陸的傳染病會經由哥倫布帶回歐洲
 - (B) 因爲哥倫布在美洲發現新的金銀礦，並將白銀運回歐洲，使物價上漲，影響貿易量，使威尼斯商人無法控制物價，「行會」的組織變會被弱化
 - (C) 因爲哥倫布宣稱他發現了通往中國的新道路，使得威尼斯商人害怕他們在商業上的重要性將被新航線所取代
 - (D) 這個偉大發現是指，哥倫布於 1498 通過非洲南端的好望角（南非），可以直達印度，穿過麻六甲海峽直通中國。因此威尼斯商人就不再可以壟斷與東方貿易的利益

40. 依右圖，選出下列敘述「錯誤」者？
- (A) 庚區成爲羅馬帝國的領地，是「帝國時代」擴張的結果
 - (B) 辛區是「文藝復興」的發動地區
 - (C) 丁區曾是「回教」信仰地區
 - (D) 己區因「婚姻」問題而與教宗決裂



41. 右圖是一幅描述中古歐洲戰爭的圖，其中執旗者以女孩之身扭轉戰爭局勢，請問對這一場戰爭的敘述哪一個是正確？
- (A) 這是法國與德國之間的戰爭
 - (B) 這場戰爭最後的勝利者是英國
 - (C) 這一場各自邁向民族國家的戰爭
 - (D) 因爲有了這場戰爭從此歐洲各國有權決定自己國家的宗教信仰

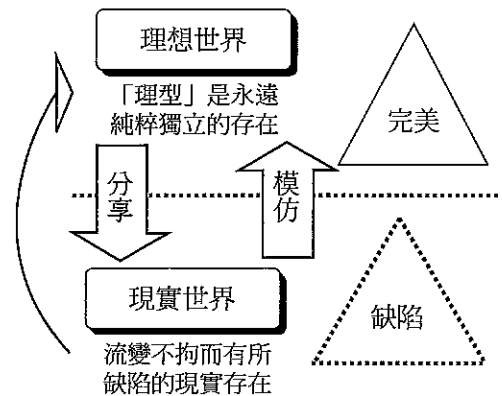


42. 「文藝復興時期的義大利割據勢力十分嚴重，各城邦國家間的彼此仇視使義大利喪失了中世紀時期在商業和貿易方面的領先地位，而且因沒有形成統一的民族國家而倍受西班牙、法國和神聖羅馬帝國的蹂躪。針對上述情況「Z」主張建立統一中央集權的民族國家，結束義大利的分立狀態」請依照以上述來判斷何者正確？

- (A) 「Z」可能是主張建立中央集權的霍布斯，其著作為《巨靈論》
- (B) 「Z」的著作可能是《君王論》
- (C) 「Z」因為在這個背景下所以鼓勵「重商主義」
- (D) 「Z」所在的時期是一個敵視宗教束縛的時代

43. 依據妳的判斷，右圖的思考架構應該是一位哲學家？其論點為何？

- (A) 泰利斯：提出萬物本源在「水」，使得人類思為開始脫離「神」，從此人類出現「完美」與「缺陷」的世界觀
- (B) 蘇格拉底：探討人生，使城邦世界得以進入「至善」的境界
- (C) 柏拉圖：世界有「變」與「不變」的區別
- (D) 亞里斯多德：所有的知識是一種來自對「理想」的追求，所以應遍及書籍成為博學之人



44-45 題為題組

◎請根據以下論述，回答 44、45 題。「……一般認為『W』這部著作是現代經濟學的開山之作，後來的經濟學家基本是沿著他的方法分析經濟發展規律的。這部著作也奠定了資本主義自由經濟的理論基礎，第一次提出了『市場經濟會由「看不見的手」自行調節』的理論。後來有些經濟學家進一步發展了自由經濟、自由競爭的理論；但『X』則從中看出自由經濟產生「周期性經濟危機」的必然性，提出「用計劃經濟理論解決」的思路；『Y』則提出政府干預市場經濟宏觀調節的方法。目前的經濟理論仍然處於不斷探索、不斷完善的過程，尚沒有任何一種盡善盡美可以完全解決經濟發展的方法；但『W』這本書仍然可以看作是用現代經濟學研究方法寫作的第一部著作，對經濟學研究仍然在起一定的作用；現代經濟學研究都是在這部著作的基礎上進行的，不論是發展它或反對它。」


44. 根據上述說明，請選出正確的選項：

- (A) W 的作者是一個經濟管制計畫者
- (B) W 的作者與 X 有著相同的理論
- (C) W 的名稱應該是 *The Wealth of Nations*
- (D) 若對 W 全書進行了概括描述，此書為國民財富的產生主要取決於兩個因素，一是勞動力的技術、技巧和判斷力，二是勞動力和總人口的比例，在這兩個因素中，第二個因素起決定性作用

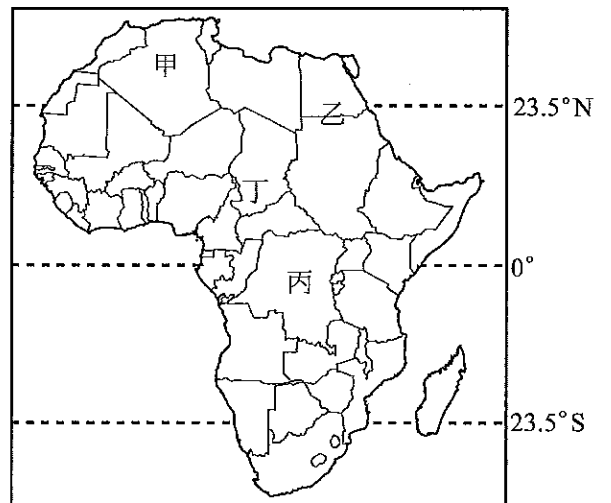
45. 『X』可能的身份應該為何者？

- (A) 馬克思
- (B) 大衛·李嘉圖
- (C) 亞當斯密
- (D) 馬爾薩斯

51. 下圖是非洲某區域的農業土地利用圖，從作物種植狀況來看，可顯示綠洲農業的何項特徵？



- (A)作物單純的粗放耕作
(B)集約耕作的商業性農業
(C)粗放耕作的原始農業
(D)高低成層的集約傳統耕作
52. 承上題，綠洲農業依型態及位置可分為點狀綠洲、帶狀綠洲和山麓綠洲。請問帶狀綠洲在非洲出現的面積大而集中，請問其分布與灌溉水源各為下列何者？



- (A)甲，井水
(B)乙，河水
(C)丙，泉水
(D)丁，高山雪水
53. 右方資訊為一旅遊手冊所提供的景點概況說明，資訊中 GPS 座標 (334803 · 2779425) 是臺灣地圖及衛星定位導航常用的網格座標，請問此類座標值是根據何種投影座標表示法？

基隆山

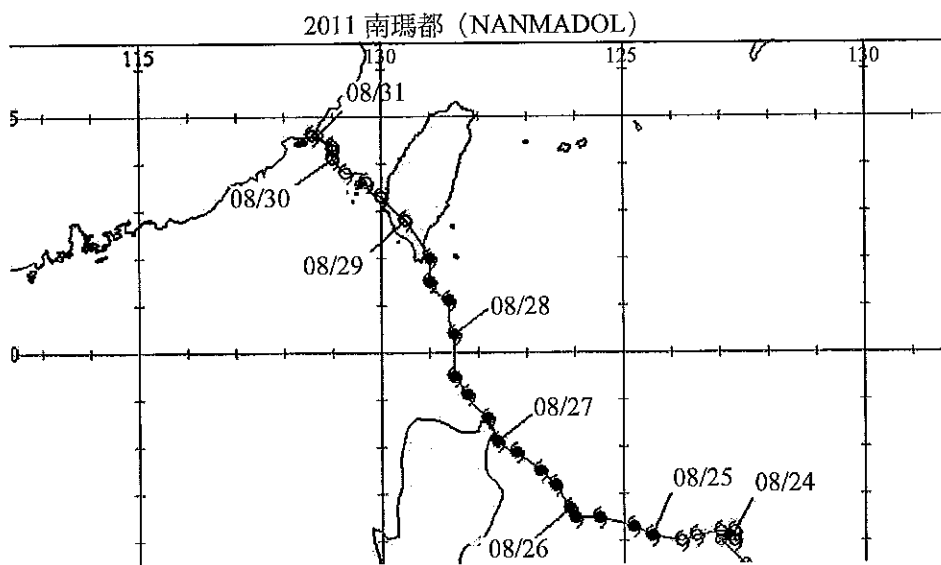
· 山名 基隆山 / · 海拔標高 588m
· 登山口高度 321m / · 三角點 三等三角點1109號
GPS座標 334803 · 2779425 / · 座落位置 台北縣瑞芳鎮
· 特色 山形優美、展望極佳

- (A)經緯線網格座標
(B)方位投影座標
(C)TM 二度分帶座標
(D)橢球體方位座標
54. 承上題，座標 (334803 · 2779425) 中的 (2779425) 所代表的涵意為基隆山至何處的距離？
- (A)赤道 (B)北極 (C)臺灣地理中心碑 (D)南極

55. 臺灣的火山群包括：離島的澎湖、基隆火山與大屯火山群，請問下列對於臺灣火山之敘述何者正確？
- (A)基隆火山有強烈的後火山活動，有溫泉、硫氣孔
 - (B)大屯火山為侵入岩，擁有豐富的礦產資源，尤其在金瓜石附近
 - (C)澎湖火山為熱點噴發，因而形成許多島群，有海底溫泉產生
 - (D)大屯火山與澎湖為噴出岩體；基隆火山為侵入岩

56-58 題為題組

◎下圖為 2011 年南瑪都颱風路徑圖，南瑪都颱風侵臺，中央氣象局發布中度颱風海上及陸上警報，颱風尚未登陸中央氣象局預測，總雨量以東部最可觀。山區雨量，氣象局預估花蓮上看 1500 毫米，臺東 1200 毫米、屏東 900 毫米。氣象局說，隨著颱風靠近臺灣，明天各地降雨會逐漸明顯，並可能有大雨或豪雨，民眾應做好防颱準備。



56. 請問臺灣的颱風預測，常使用大雨、豪雨或時雨量的方式來告知民眾加強防颱準備，請問此種描述方式是屬於何種降水特性指標？
- (A)降水變率
 - (B)年平均降水量
 - (C)降水強度
 - (D)降水季節分布
57. 原本氣象局預估颱風會從東部北上，但颱風發展動態因太平洋高壓增強，使颱風路徑往西偏行，因此氣象局重新修訂預測降雨量。東臺灣因為首當其衝，預測總雨量維持上看 1500 毫米，但路徑往西偏，北部山區雨量下修，西南部雨量則上修。根據以上敘述，颱風動態短時間內可能出現降水的重大變化，其最關鍵的因素為何？
- (A)颱風強度的變化
 - (B)氣旋風向與地形關係
 - (C)西南氣流引進與否
 - (D)東北季風引發共伴效應

58. 颱風侵臺常常造成臺灣民眾生命財產損失，根據農委會統計，臺灣地區自 8 月 28 日起受南瑪都颱風間歇性強風豪雨影響，農業產物及設施估計損失金額 1 億 5,952 萬元。請問颱風一旦侵臺，短短數日，即造成臺灣農業嚴重損傷，除了自然環境外，尚與臺灣哪一農業特色最相關？
- (A) 農業集約度高
(B) 臺灣農業皆為專作區
(C) 農業的生產時間過度集中
(D) 農民的防災觀念普遍不足

59-60 題為題組

◎花蓮縣池上鄉官方旅遊指南，對池上鄉的農產有下列描述「池上鄉位處花東縱谷，在中央山脈及海岸山脈之間，新武呂溪流域河谷平原上，平均高度海拔三百公尺，日夜溫差大、日照充足。池上米好吃的因素有三：一是土質好、二是水質好、三是氣候好，因而產出臺灣知名的池上米，地名直接成為品牌。」

59. 根據上文旅遊指南描述，著重強調「農業系統」中的哪項環節：
- (A) 投入 (B) 過程 (C) 產出 (D) 反饋
60. 關於池上鄉稻作農業的哪一敘述正確？
- (A) 屬季風亞洲傳統稻作農業 (B) 富自給性色彩
(C) 產銷方式與熱帶栽培業相同 (D) 高度集約的商業性農業

61-62 題為題組

◎由亨利·福特（Henry Ford）所創立的福特汽車，在 1903 年公司化。亨利·福特當時進行大批量產汽車，以移動式裝配線為生產序列。其高效率、高工資、低售價的結合，對當時美國製造業而言是改革創新，因而這套方法被稱為福特化生產。

61. 根據上文敘述，福特汽車在當時的移動式裝配線，整套生產方式以哪一工業特徵描述最符合？
- (A) 專業分工 (B) 客製化 (C) 水平整合 (D) 垂直整合
62. 近年來，福特公司經歷了來自日本和韓國汽車的競爭、油價上漲、金融海嘯，福特面臨著生存的危機時，2011 年一反過去美國主導的企業文化，反向輸入福特歐洲的產品。福特藉由歐洲福特廠設計的單一車款（One Ford 架構），重新打造全球策略，揚棄以往車系區分歐規、美規甚至亞太規格的差異化版本，請問此一策略可達何項效果？
- (A) 全球化促使本土意識漸弱
(B) 跨國企業藉策略聯盟提升競爭力
(C) 跨國企業全球分工，導致發展不均
(D) 技術轉移提高企業獲利

63-64 題為題組

◎照片中為臺灣某一港區，請觀察照片內容，判斷以下問題：



63. 本港灣是一天然良港，請問此一港口是利用何種天然環境建港？

- (A)三角洲 (B)峽灣
(C)岬灣 (D)峽谷

64. 「臺灣的北、中、南、東皆有關建港口，港口的關建常需配合自然環境的地形與氣候要素，天然的良港效能與使用年限遠勝於人工關建的人工港。」根據以上論述正符合地理學四大傳統中的何項？

- (A)空間分析 (B)生態分析
(C)區域複合體分析 (D)地球科學理論分析

65-66 題為題組

◎常用統計圖與統計地圖的類型如下：(甲)長條圖 (乙)圓餅圖 (丙)折線圖 (丁)三角圖解 (戊)面量圖 (己)點子圖 (庚)等值線圖 (辛)線量圖。請問：

65. 如果要呈現臺灣新移民之中，不同族群組成的比例，你認為使用哪種統計圖表較為適合？

- (A)甲 (B)乙 (C)丁 (D)己

66. 中國大陸因全球化，許多跨國企業移往大陸設廠，因此有「世界工廠」之稱，若要呈現企業母國與中國投資比例的空間關係，你認為使用哪種統計圖表較為適合？

- (A)乙 (B)丙 (C)戊 (D)辛

67-68 題為題組

◎歐洲有 5 國爆發債務危機，近期希臘倒債疑慮再起。此五國國名英文字首連起來正好是 PIIGS，念起來就像英文單字 pigs（豬），因此國際債券分析家、學者和國際經濟界媒體對歐洲五個較弱的經濟體的貶稱戲稱這五國是歐豬五國。經濟學者警告，這五國危機關係著歐元區的未來；投資管理公司則表示，未來如果連法國、德國等核心大國也感受壓力，等於宣告危機飆升到頂峰。

67. 請問歐豬五國主要位於歐洲哪一區域位置？

- (A)東歐 (B)西歐 (C)南歐 (D)北歐

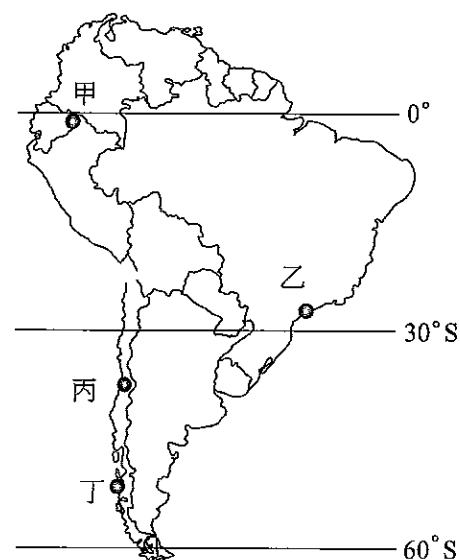
68. 經濟學者警告「這五國危機關係著歐元區的未來」，此一說法基於何項根據？

- (A)皆為歐陸國家貿易關係密切
(B)西歐核心國的跨國企業大多投資於歐豬五國
(C)此區域最早使用歐元，為歐元央行所在，主宰歐元的興衰
(D)歐盟與歐元共同體制下所產生的後果

69-70 題為題組

◎右圖為南美洲地圖，請配合表中資料回答下列問題：

月分	A 區		B 區	
	氣溫 (°C)	雨量 (mm)	氣溫 (°C)	雨量 (mm)
一	13.1	96	22.2	23.3
二	14.2	56	23.7	33.4
三	13.5	67	18.8	32.8
四	13.2	67	17.6	45.8
五	13.3	78	17.5	51.2
六	12.4	56	16.7	66.7
七	12.2	56	13.8	98.4
八	12.4	87	12.3	87.6
九	12.7	83	14.9	76.5
十	13.3	102	15.4	63.2
十一	14.3	87	19.3	43.3
十二	13.2	105	21.9	12.5



69. 請問 A 區最有可能位於地圖中的哪一位置？

- (A)甲 (B)乙 (C)丙 (D)丁

70. B 區所生產的當地農產可能是？

- (A)咖啡、可可 (B)甘蔗、香蕉 (C)牛肉、玉米 (D)葡萄、蘋果

71-72 題為題組

◎日本的 SONY 早年曾是世界首屈一指的大型企業，多角化經營，電子科技走在世界的前端；近年面臨世界各大電子商品的挑戰。如：Dell、HP、Lenovo、ACER 等品牌電腦；Canon、Nikon、Panasonic 等數位相機。此外，Apple 的 iPod、Samsung 的液晶電視、微軟的 Xbox；智慧型手機更是成為 SONY 面臨的一大挑戰。

71. SONY 經營面臨困境，說明現代工業何項特徵的重要性？

- (A)交通運輸 (B)國家政策支持 (C)規模經濟 (D)研發創新

72. SONY 過去的電子產品，其周邊零件常常不相容於其他廠牌，如：電池、記憶卡、充電器。這些周邊配備的價格往往售價非常高，當 SONY 面臨其他廠牌商品競爭時，SONY 的設計卻逐漸轉變為可與其他廠牌相容，這說明 SONY 逐漸實現工業的何項特徵？

- (A)標準化 (B)規格化 (C)自動化 (D)機械化

高雄區高級中學 100 學年度第一學期 大學入學第一次學科能力測驗聯合模擬考 社會考科詳解

1. 參考答案：(D)

試題解析：假想觀眾：假想旁人或觀眾會隨時隨地觀看自己、批評自己，因此非常注意自己的服裝儀容，關心自己的一舉一動，以避免他人之議論。

重要他人：對個人的自我評估具有特別重要影響之人，也是個人模仿的對象，通常是指父母親、老師、兄弟姊妹、同學、朋友等。

個人傳奇：指有些青少年有時會錯認個人的思考內容與方式是與眾不同的，因而產生自我中心的現象，所以會不顧危險而執意下水。

2. 參考答案：(D)

試題解析：呈現：想像自己在別人眼中的形象。

判斷：想像別人面對自己的出現所抱持的看法與評估。

主觀的解釋：在想像別人對自己的評估後，自己該如何反應別人的看法，以及個人之感受如何。

3. 參考答案：(C)

試題解析：性別主流化：是指政府在制定法令政策時，都應該考慮其對不同性別造成的影響，並檢討勞動、福利、教育與家庭等現行法令政策中，是否仍只有性別不平等的現象，希望藉由法令政策的制定，以及政府各部會的合作，以實現平等社會。

異性戀霸權：則係指將愛情、性行為、婚姻及生育後代四者加以結合，使異性戀者在一個社會中占有主要優勢的地位，而同性戀者則遭致歧視與迫害，被視為異類，甚至被當作病態而欲加以矯正治療。

4. 參考答案：(A)

試題解析：安全型依附：易於與他人發展出持久、成熟的人際關係。

矛盾型依附：其人際關係則是想要親近同伴但卻又害怕同伴不予回應；或缺乏獨立的自我，過度依賴別人或對方，使別人或對方備感壓力。

逃避型依附：不易相信別人，在親密關係遭到困難時，會出現逃避甚至於是破壞的行為。

5. 參考答案：(A)

試題解析：儀式：是指一群人集合起來，在一段特定時間內參與的一種慶祝或祭祀活動。例如天主教的望彌撒、佛教徒的齋戒、伊斯蘭教徒的朝聖等。

符號：是一種表達著或表現某種意義的事物，它有兩個面向。

1. 一個是看得到、聽得見、摸得著，具體的物體：例如國旗、十字架；還有聲音：例如講話；姿勢：例如敬禮。

2. 另一個則是這些符號所表達或蘊含的意義，例如國旗象徵國家，十字架，視為得救標幟，以紅色作為喜事或危險的表徵等。

所以(B)、(C)、(D)均屬於儀式。

6. 參考答案：(A)

試題解析：法律位階由高至低為：憲法→普通法律→法規命令→地方自治法規→個別規範。憲法第 171 與 172 條之規定，即為法律優越原則。其內容規定即為：命令或法律抵觸憲法者無效。故此題大法官會議解釋即此法律優越原則之展現。

7. 參考答案：(D)

試題解析：行政機關若要對人民權利加以限制，需有法律明確授權，才符合法律保留原則。

8. 參考答案：(C)

試題解析：比例原則：是從方法與目的之間的關聯上，來考量行政行為之合法性。其又分為三項：適當性；必要性與衡量性。我國俗語說：殺雞焉用牛刀，可用來說明比例原則。

誠信原則：即在行政行為時，行政機關不應有出爾反爾、強人所難、隱匿實情、無理由而作出違反行政先例等等情事。

信賴保護原則：指受國家支配之人民，如信賴公權力措施之有效存續，而在客觀行為上有所規劃或安排時，此一人民因信賴所形成之利益，應受到法律保護。

平等原則：即行政機關在作成行政處分或其他行為時，非有正當理由，對行政行為所規制的對象，不得有差別待遇。

9. 參考答案：(C)

試題解析：民法是私法，私法是自治原則，強調意思自主、契約自由，除非此契約違反政府強制或禁止規定或違反公序良俗或違反誠信原則，否則原則上政府公權力是不介入的。

10. 參考答案：(D)

試題解析：所謂故意是指行為人對於構成犯罪的事實，明知並且有意使其發生就是故意，但預先可以想見其會發生，而且其發生亦不違反行為人之本意者，亦當成是故意。

11. 參考答案：(A)

試題解析：民事訴訟法上的「調解」是指法院於當事人「起訴前」依其聲請，就兩造當事人發生爭議之民事事件居中排解，勸籲兩造杜息紛爭，研議解決方案，使當事人成立合意接受，以避免發生訴訟之程序。是故，「調解」與「訴訟和解」首要之不同，在於調解是起訴前程序，因有法院的介入。屬於非訟事件；訴訟和解是「訴訟係屬後」之程序，不問訴訟程度如何，隨時可進行，其性質通說認為其有兼含訴訟法與實體法之性質，而非僅為單純的訴訟行為，故本題應選(A)調解，而非和解。

12. 參考答案：(B)

試題解析：刑事訴訟法第 3 條：「本法稱當事人者，謂檢察官、自訴人及被告。」新刑事訴訟法採改良式當事人進行主義，法官以公正第三人負責聽審，判斷當事人主張有無理由，故選(B)法官。

13. 參考答案：(C)

試題解析：一國國民居住的空間並不一定是該國的領土；領陸與領海之上的才為領空；國籍船舶在公海上屬該國浮動領土，為延伸之領土；駐外使館雖在他國境內，但卻是我國領土。故選(C)。

14. 參考答案：(B)

試題解析：西方民主理論的歷史演進為：古典民主理論→經驗（菁英）（程序）民主理論→多元民主理論→審議民主理論。

15. 參考答案：(C)

試題解析：議決總統、副總統的彈劾是屬於司法院的職權。

大赦特赦要事先經立法院議決通過後，行政部門方得依其議決施行之，以符合依法行政之本旨，不得以事後追認的方式便宜行事。

至於緊急命令勢必是十萬火急的事件發生，才有當機立斷，先應急、後追認的不得以狀況。

與美國簽訂軍購案是屬於行政院職權。

16. 參考答案：(B)

試題解析：覆議權 (veto) 又叫做覆議否決權。總統在國會通過的該決議案送達 10 日內，移請國會覆議，覆議是憲政問題；至於復議，則屬於國會議事規則之內規層次。

17. 參考答案：(C)

試題解析：《公職人員選舉罷免法》第 14 條規定：「中華民國國民，年滿二十歲，除受監護宣告尚未撤銷者外，有選舉權。」

另依據新修訂的《刑法》第 36 條規定：「褫奪公權者，褫奪下列資格：一、為公務員之資格；二、為公職候選人之資格。」所以，被褫奪公權者，仍然擁有投票權。

18. 參考答案：(D)

試題解析：基本上二次大戰前國際政治是多元（多個強國）競爭的結構；二次大戰後到 1990 年代「蘇東波」潮流、東歐等共產國家解體走向民主時期，是東西二元對抗時期的國際政治結構；1990 年代後，是屬於美國為超級強國與如英國、法國等強國並存的「一超多強」的國際政治結構。

19. 參考答案：(D)

試題解析：(A)是媒體監督 (B)是司法監督 (C)是立法監督。

20. 參考答案：(C)

試題解析：採「混合投票制並立制」的算法如下：

單一選區席次 = 160 席

比例代表席次 = 72 席 ($180 \times 40\% = 72$)

即總席位： $160 + 180 \times 40\% = 160 + 72 = 232$ 席

21. 參考答案：(A)

試題解析：如果採「混合投票制聯立制」的算法則如下：

總席位： $480 \times 40\% = 192$ 席

22. 參考答案：(D)

試題解析：「單一選區兩票制」較有利於大黨與既有政黨，故將來可能當趨向於如國民黨與民進黨的兩黨制。

23. 參考答案：(B)

試題解析：比例原則：是從方法與目的之間的關聯上，來考量行政行為之合法性。其又分為三項：適當性；必要性與衡量性。我國俗語說：殺雞焉用牛刀，可用來說明比例原則。

24. 參考答案：(C)

試題解析：消極人權：即是「古典人權」，當時因為人們之所以需要人權，往往是因為國家會侵害人民的權益，所以人們需要種種權利來防禦國家之侵害。這是屬於消極地位 (negative status) 之權利，亦即就是要求國家如果不要侵害人民權利，只需消極地不做是或無所作爲，所以這又稱爲「自由地位」。著重對個人公民及政治等自由權的保障，消極地希望以法律確保個人得以免於國家侵犯。

積極人權：即是「社會權」。因為再者，隨時代演進，人們除了防禦政府的侵害外，也漸漸發現，在生活與經濟方面，在在需要政府的積極給予照顧，這就是「地位理論」中所謂的「積極地位」之社會權，要求國家主動積極地提供人民福利與保障，即要求政府要積極作爲提供保護。

25. 參考答案：(C)

試題解析：買辦是指清朝末年，幫助歐美國家於中國進行雙邊貿易的商人。這是需要在臺灣「開港通商」後，才可能發生。同時「買辦」取代傳統的「郊商」，成爲新一代的商人。

26. 參考答案：(D)

試題解析：(A)「C」是八堡圳 (B)影響到「稻米」的產量 (C)水圳工程大多是靠民間力量 (D) B 是「貓霧揀圳」。

27. 參考答案：(B)

試題解析：自「七七事變」後，日本在臺灣推行「皇民化運動」，日語推展是其工作重點項目。(A)義務教育：1943 (C)內臺共學：是 1922 新頒布「臺灣教育令」的項目，是指臺灣與日本學制一體化，中學以上「日臺共學」一同校上課，與基礎教育無關 (D)志願軍政策：1942 年實施，是因應日本發動太平洋戰爭後軍力的不足。

28. 參考答案：(A)

試題解析：「圖(一)」到「圖(二)」增加「恆春縣」及「卑南廳」，可見是沈葆楨來臺時期。而「廢除渡臺禁令」也在這個時候，由沈葆楨提議並實施 (B)若是「建省」：應是 1884 年中法戰爭之後，且應該將卑南廳改爲「臺東直隸洲」才是。

29. 參考答案：(B)

試題解析：1908 年縱貫鐵路開通。(A) 1895「日軍進入臺北城」 (B) 1915「余清芳事件」 (C)日據時代高等教育，臺灣人以「醫科」及「農商技術」、「師範學校」爲重點，是熱門科系 (D)後藤新平提出「無方針主義」，以適應現實需要。

30. 參考答案：(D)

試題解析：(A)「職業教育」雖爲日據時期政府所重視，但是「日籍」學生應該重點在高等教育 (B) 1943 年才有義務教育 (C)日本政府徵調臺灣人及在臺日本人參加南洋作戰，這是日據統治後期「太平洋戰爭」時期。

31. 參考答案：(B)

試題解析：內容上提及「美國將使臺灣能夠獲得數量足以維持自衛能力的防衛物資及技術服務」，這就是後來的「臺灣關係法」。而「臺灣關係法」其中一項功能是，授權成立美國在臺協會 (American Institute in Taiwan; AIT) 以代表新關係中的美方。(A)背景是中、美斷絕外交 (C)這是取代「中美共同防禦條約」 (D)卡特。

32. 參考答案：(A)

試題解析：漢武帝設「內朝」，而內朝成員為皇帝近臣，往往干預制度運作。所以題幹中才有「君主近臣，代起執政」。其後漸形成「三省制」。

33. 參考答案：(B)

試題解析：前一種稅制為「租庸調」（稅是固定的），這種制度是配合「均田制」而施行的，所以題幹中「農民可以藉由分到田地而繳稅……」，即是配合均田制而來的「租庸調」；後改為「兩稅法」（依資產計算）

34. 參考答案：(D)

試題解析：宋朝雖然因對外戰爭的失敗，屢次被迫訂立屈辱條約，但因為「夷夏之防」觀念甚嚴，故宋人從未與外族和親以換取和平（這也與「理學」有關）。

35. 參考答案：(A)

試題解析：長江三角洲在宋代為中國穀倉，有「蘇常熟，天下足」之稱；至元代，原本栽種於閩粵地區的棉花，逐漸栽種於蘇常地區，明代中晚期地理大發現，西歐國家紛紛東來購買中國絲織品、瓷器、茶葉，這些產品大都出自蘇常地區，而自美洲引進的新作物，由於栽種條件不若稻麥，而遍及於土地較為貧瘠乾旱之地，湖廣地區的山坡地為其最佳栽種地之一，加上平原地區栽種稻麥，致使天下穀倉由蘇常地區移往湖廣地區。

36. 參考答案：(C)

試題解析：(A)鴉片輸入早在雍正時期（18世紀初）已有，而且1858年〈通商章程善後條約〉鴉片成為合法貿易，所以1858年時量不至於驟減 (B)領清時期臺灣械鬥於開港通商（1860年代）以後逐漸消失 (C)晚清時期（咸豐年間）大陸內部民亂，有太平天國之亂、新疆回變、陝甘回變、雲南回變……同治後漸漸平息，故有「中興」之稱 (D)臺灣開港通商後茶葉輸出的量增加，成為臺灣外銷主要收入之一，所以圖形應該是上揚的。而且1895日本接收臺灣，當時政局混亂，圖形走勢應該往下。

37. 參考答案：(B)

試題解析：喀爾文教派在教義中，所強調的是「預選說」。人的得救與否是上帝事先安排的，但如何得知自己是否是選民？事業的成功與否可被視為一種徵兆……所以此派多受中產階級（事業有成）喜愛，一般教徒更重視經濟、民主制度和公眾教育。

38. 參考答案：(C)

試題解析：(A)(B)波希戰爭結束後，雅典與斯巴達各成立同盟組織相互對抗，雅典乃是「提洛同盟」的領導，「貢金」應該這時候出現。斯巴達組織「羅奔尼撒同盟」與雅典的「提洛同盟」相互對抗，後造成「伯羅奔尼撒戰爭」 (C)反對繳交貢金的城邦組成了伯羅奔尼撒聯盟。

39. 參考答案：(C)

試題解析：威尼斯的興起是源自於其地理位置，掌控東西交通貨物交流的利益。如果新的航路出現則代表這一種獨佔的優勢必將改變 (D)1498年通過好望角是達伽瑪而非哥倫布。

40. 參考答案：(A)

試題解析：庚區是現今的「法國」，當時稱為「高盧」，這是羅馬「共和時期」凱薩所征服之地，而非帝國時代。(B)文藝復興的發動地區：義大利 (C)八世紀回勢力到達西班牙 (D)己區因婚姻問題而與教宗決裂，創立英國國教派。

41. 參考答案：(C)

試題解析：「英法百年戰爭」本是因土地問題的戰爭，後轉變成民族之間的戰爭，其影響之一是各自邁向民族國家。圖中執旗的女孩是法國「聖女貞德」。(A)這是英法百年戰爭(1337~1453) (B)這場戰爭最後的勝利者是法國 (D)應該是指「三十年戰爭」。

42. 參考答案：(B)

試題解析：(A)(B)由題幹所言：「『Z』主張建立統一中央集權的民族國家，結束義大利的分立狀態」，可見此著作理論一定是傾向中央集權。而《巨靈論》與《君王論》都符合這樣的條件，但是霍布斯的《巨靈論》是17世紀的作品，而非「文藝復興」時期(14~16世紀)的作品，而且談論的並非針對義大利，乃是他對社會基礎與政府合法性的看法 (C)至於「重商主義」是在16~18世紀因為「地理大發現」之後才有的，它的理論也與題幹不符 (D)文藝復興雖然其核心是「人」為主，不再以「神」為中心。但卻不敵視宗教。

43. 參考答案：(C)

試題解析：由圖中理想世界「永遠存在」與現實世界「流變不拘」，可以知道這是柏拉圖所說的「理型論」。

44. 參考答案：(C)

試題解析：由「一般認為『W』這部著作是現代經濟學的開山之作」，可推斷出這應該是亞當斯密的《國富論》。而亞當斯密的《國富論》強調的是「自由放任」的經濟主張，而非是一個經濟管制計畫者。

45. 參考答案：(A)

試題解析：由經濟產生「周期性經濟危機」的必然性，提出「用計劃經濟理論解決」的思路，可看出一定是一位強調經濟管控，反對自由競爭者。(B)大衛·李嘉圖：以邊沁的功利主義為出發點，建立起了以勞動價值論為基礎，以分配論為中心的理論體系。理論較接近亞當斯密 (D)馬爾薩斯「人口論」：人口是以幾何級數比率增長，而糧食和其他生產卻是以數字級數比率增長的，因而人口增長的速度永遠超過糧食同其他生產增長的速度，由此推出，人類必須控制人口的增長。否則，貧窮是人類不可改變的命運。

46. 參考答案：(C)

47. 參考答案：(B)

48. 參考答案：(D)

試題解析：從1565年菲律賓被西班牙殖民者佔領，到1898年脫離西班牙統治獨立。而14世紀伊斯蘭教傳入菲律賓，而西班牙傳入天主教，造成日後二宗教的衝突。

49. 參考答案：(D)

試題解析：原住民部落生活的長期觀察，適用觀察法、訪談法，直接紀錄可獲取一手資料，屬人文研究。既是長期觀察，問卷的方式較不適宜，也不方便。

50. 參考答案：(A)

試題解析：中印為新興工業大國，基於重工業與國家基礎建設需求，必須大量採購煤礦作為燃料。煤價格較低，燃燒效能強，但產生的污染物對國人健康影響極大，常成為急需快速工業化國家所使用的燃料。

51. 參考答案：(D)

試題解析：綠洲農業屬傳統耕作，以高低成層種植棗椰、果樹及穀物，一方面保護土壤，一方面在有限的綠洲土地進行善用水源的集約耕作。

52. 參考答案：(B)

試題解析：非洲最大規模的綠洲帶出現在尼羅河沿岸，呈現帶狀分布，尤以尼羅河下游埃及歷史最悠久，範圍最大。

53. 參考答案：(C)

試題解析：此座標法為橫麥卡托投影座標，投影範圍採2度為一帶，是內政部經建版地圖採用的方式，坊間的地圖及衛星導航地圖亦大多採用此一系統座標。

54. 參考答案：(A)

試題解析：根據臺灣地理位置所訂定的平面直角坐標，2779425為基隆山距離赤道的距離2779.425公里。

55. 參考答案：(D)

試題解析：(A)大屯火山有強烈的後火山活動，有溫泉、硫氣孔 (B)基隆火山為侵入岩，擁有豐富的礦產資源，尤其在金瓜石附近 (C)澎湖火山為裂隙噴發，後火山活動於全新世幾已不再活動 (D)大屯火山與澎湖為噴出岩體；基隆火山為侵入岩。

56. 參考答案：(C)

試題解析：大雨、豪雨、時雨量皆是描述單位時間的降水量。短時間內的大量降水，常造成地區環境來不及宣洩而淹水，也最易擾動環境的不穩定性，產生其他環境災害。

57. 參考答案：(B)

試題解析：颱風預測路徑的改變，最直接的影響就是風向與地形關係，因此，氣象局的即時預報與修正，格外重要。西南氣流常為颱風的牽引，在颱風過後引進大量的降水，並非在路徑轉變過程中，所產生的局部影響因素。

58. 參考答案：(A)

試題解析：臺灣的農業約度高，長年都有作物種植，不但空間集中且生產成本高，因而在颱風過後的農業損失相當慘重。農業雖集中於某些縣，但並非全是專業化種植，農民普遍有防災概念，可提前收成，若無法提前收成的農民，也無法抵抗無情的環境災害。

59. 參考答案：(A)

試題解析：文中敘述的陽光、土壤、水等，屬農業系統中的自然投入。

60. 參考答案：(D)

試題解析：臺灣稻作是商業性集約農業，投入的成本高，甚至加入行銷，創建品牌，與亞洲傳統自給式的稻作不同。

61. 參考答案：(A)

試題解析：福特當時進行大批量產汽車，以移動式裝配線為生產序列。提高效率，減少錯誤，進行專業分工，標準化生產。

62. 參考答案：(B)

試題解析：福特由歐洲廠設計的車款準備捲土重來，One Ford架構是另一類的行銷方式，福特藉由符合大眾喜愛的經典車款，在全球布局。由於歐洲的汽車工業發達，尤其在德國，福特與歐洲知名汽車工業設計廠商合作，開發受歡迎的車款，如：Focus、Fiesta等車款，藉此打造全球策略，有利競爭。

63. 參考答案：(C)

試題解析：此照片近端為南方澳漁港（沙頭岬），遠端為蘇澳港（谷灣式海岸），是利用天然岬灣地形開發而成的港口。無論沙頭岬或谷灣式海岸皆構成岬灣型態的海岸。

64. 參考答案：(B)

試題解析：人利用天然環境建港，屬人地關係。符合地理學傳統中的生態分析。

65. 參考答案：(B)

試題解析：臺灣新移民之中，不同族群組成的比例，是要觀察分項占整體之比例關係，以圓餅圖最恰當。

66. 參考答案：(D)

試題解析：若要呈現兩地之間的空間關聯性，可透過線量圖來連結，線條本身的粗細可顯示投資金額或投資比例的大小。

67. 參考答案：(C)

試題解析：歐豬五國為葡萄牙 (Portugal)、義大利 (Italy)、希臘 (Greece)、西班牙 (Spain) 皆位於南歐，僅愛爾蘭 (Ireland) 位於西北歐。

68. 參考答案：(D)

試題解析：歐盟與歐元的共同政策與體制，常須負擔邊陲區的經濟發展。以希臘為例，希臘的3大金主為國際貨幣基金、歐盟與歐洲央行，此外，法國的銀行也大量借貸，供希臘紓困，若希臘倒債，歐洲整體經濟將受牽連。

69. 參考答案：(A)

試題解析：根據 A 區氣溫、雨量資料顯示全年低溫，年溫差小，最有可能是熱帶高地氣候，甲的位置位於熱帶安地斯山。

70. 參考答案：(D)

試題解析：B 區夏乾冬雨是地中海型氣候。位於南美洲智利中部，盛產園藝作物及蔬果。

71. 參考答案：(D)

試題解析：SONY 目前面臨最大的困境在於各大科技業的研發創新能力，因此 SONY 面臨強大的產品銷售壓力。

72. 參考答案：(B)

試題解析：規格化是不同廠牌的零件可以相容，共同認定了統一規格，利於消費者更換使用。